

**BACHELOR OF SCIENCE (B. Sc.)**

**Term-End Examination**

**December, 2025**

**CHE-10 : SPECTROSCOPY**

*Time : 2 Hours*

*Maximum Marks : 50*

---

**Note :** (i) Answer any **five** questions.

(ii) All questions carry equal marks.

(iii) Use of Log tables and Non-programmable/Scientific calculators is allowed.

(iv)  $R_H = 1.09677 \times 10^7 \text{m}^{-1}$

$h = 6.626 \times 10^{-34} \text{Js}$

$\beta_e = 9.274 \times 10^{-24} \text{JT}^{-1}$

- 
1. (a) Calculate the  $\bar{\nu}$  for the first spectral line of Balmer series for H atom. 2

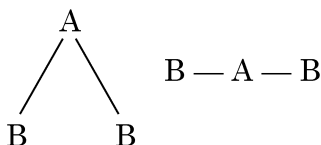
- (b) Calculate the energy associated with a radiation having  $\lambda = 430 \text{ nm}$ . 2
- (c) Derive the term-symbol for the  $p$  state of H atom. 3
- (d) What is an  $n$ -fold axis of symmetry? Explain using an example. 3
2. (a) Using VSEPR theory, find the shape of  $\text{PCl}_3$  molecule. 2
- (b) "Although all transitions with  $\Delta J = \pm 1$  have same transition probability, the lines corresponding to these do not have same intensity." Explain. 2
- (c) Calculate the moment of inertia of  $^{12}\text{C}^{16}\text{O}$ . Given that atomic masses of  $^{12}\text{C} = 12.0000$  and  $^{16}\text{O} = 15.9994$ ; bond length =  $1.1 \text{ \AA}$ . 3
- (d) Using the appropriate expressions for a rigid rotor, show that the spectral lines have a spacing (in  $\text{cm}^{-1}$ )  $2B$ . 3

3. (a) Show that for the vibrational spectrum of HCl and DCl :

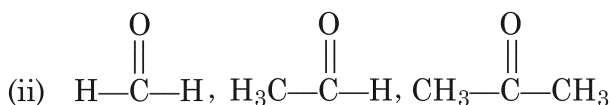
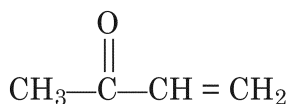
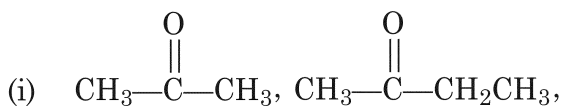
$$\frac{\nu_{\text{osc}}^{\text{HCl}}}{\nu_{\text{osc}}^{\text{DCl}}} = \sqrt{2}$$

Given that atomic masses of H, D and Cl are 1, 2 and 35.5 respectively. 3

- (b) Calculate and draw the number of stretching and bending modes of water molecule. 3
- (c) Describe the origin of P and R branches in vibrational-rotational spectrum of CO behaving as a rigid rotor and harmonic oscillator. 4
4. (a) How can you differentiate between the following structures using IR and Raman spectroscopy ? 2



- (b) Arrange the given molecules in order of decreasing  $>C=O$  IR frequency giving reasons : 4



- (c) For  $\text{H}_2$  molecule, the spacing between S-branch lines in the Raman spectrum is  $243.2 \text{ cm}^{-1}$ . Calculate H-H bond length. Given that mass of a H atom =  $1.673 \times 10^{-27} \text{ kg}$ . 4

5. (a) Explain the following terms : 2
- (i) Hyperchromic shift
- (ii) Hyperchromic effect

- (b) The IR and Raman spectral data of  $\text{N}_2\text{O}$  is given below. Deduce the structure of  $\text{N}_2\text{O}$  from this information : 4

$\bar{\nu} / \text{cm}^{-1}$	IR	Raman
589	Strong, PQR band	—
1285	Very strong, PR band	Very strong
2224	Very strong, PR band	Strong

- (c) Draw and explain the crystal field splitting of  $d$ -orbitals of metal ion in complexes having tetrahedral geometry. 4
6. (a) Draw and explain the  $^1\text{H}$ -NMR spectrum of acetaldehyde. 4
- (b) An inorganic compound having one unpaired electron shows a strong e.s.r. line at the frequency 9.5 GHz. Calculate the  $g$ -value of the line,  $B_z = 0.15 \text{ T}$ . 2

- (c) Discuss all possible electronic transitions in polyatomic molecules using an appropriate diagram. 4
7. (a) Explain McLafferty rearrangement with an example. 3
- (b) Explain the term 'band pass width'. 2
- (c) The following data is obtained for a compound having molecular formula  $C_7H_8O$ . 5

Mol. wt : 108

Nature : Not acidic

IR spectrum : Indicates presence of -OH group

UV :  $\lambda_{max}$  at 254 nm and 202 nm

NMR ( $\delta$ ,  $CDCl_3$ ) : 3.85 (s, 1H), 4.55 (s, 2H), 7.25 (s, 5H)

Mass spectrum : ( $m/z$ ) 108, 107, 79, 77, 51.

Deduce the structure of the compound.

**CHE-10**

विज्ञान स्नातक

(बी. एस-सी.)

सत्रांत परीक्षा

दिसम्बर, 2025

सी.एच.ई.-10 : स्पेक्ट्रमिकी

समय : 2 घण्टे

अधिकतम अंक : 50

---

नोट : (i) किन्हीं पाँच प्रश्नों के उत्तर दीजिए।

(ii) सभी प्रश्नों के समान अंक हैं।

(iii) लॉग सारणियों और नॉन-प्रोग्रामीय कैल्कुलेटर्स या साइंटिफिक कैल्कुलेटर्स के उपयोग की अनुमति है।

(iv)  $R_H = 1.09677 \times 10^7 \text{m}^{-1}$

$$h = 6.626 \times 10^{-34} \text{ Js}$$

$$\beta_e = 9.274 \times 10^{-24} \text{ JT}^{-1}$$

1. (क) H परमाणु की बामर श्रेणी की प्रथम स्पेक्ट्रमी रेखा के लिए  $\bar{\nu}$  परिकलित कीजिए। 2
- (ख)  $\lambda = 430 \text{ nm}$  वाले किसी विकिरण के साथ संबद्ध ऊर्जा परिकलित कीजिए। 2
- (ग) हाइड्रोजन परमाणु की  $p$  अवस्था के लिए पद-प्रतीक व्युत्पन्न कीजिए। 3
- (घ) सममिति का  $n$ -गुना अक्ष क्या होता है ? एक उदाहरण के उपयोग द्वारा व्याख्या कीजिए। 3
2. (क) VSEPR सिद्धांत के उपयोग द्वारा  $\text{PCl}_3$  अणु का आकार ज्ञात कीजिए। 2
- (ख) “यद्यपि  $\Delta J = \pm 1$  वाले सभी संक्रमणों की संक्रमण प्रायिकता होती है, परन्तु उनके संगत रेखाओं की समान तीव्रता नहीं होती है।” व्याख्या कीजिए। 2
- (ग)  $^{12}\text{C}^{16}\text{O}$  का जड़त्व आघूर्ण परिकलित कीजिए। यदि  $^{12}\text{C}$  और  $^{16}\text{O}$  के परमाणु द्रव्यमान क्रमशः 12.0000 और 15.9994 हैं और आबंध लम्बाई  $= 1.1 \text{ \AA}$  हो। 3

(घ) किसी दृढ़ घूर्णक के लिए उपयुक्त व्यंजकों का उपयोग करते हुए दर्शाइए कि स्पेक्ट्रमी रेखाओं के बीच की दूरी ( $\text{cm}^{-1}$  में)  $2B$  है। 3

3. (क)  $\text{HCl}$  और  $\text{DCl}$  के कम्पन स्पेक्ट्रमों के लिए दर्शाइए कि :

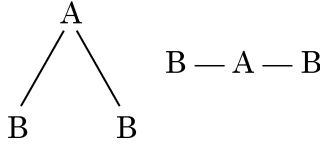
$$\frac{\nu_{\text{osc}}^{\text{HCl}}}{\nu_{\text{osc}}^{\text{DCl}}} = \sqrt{2}$$

दिया गया है : H, D और Cl के परमाणु द्रव्यमान क्रमशः 1, 2 और 35.5 हैं। 3

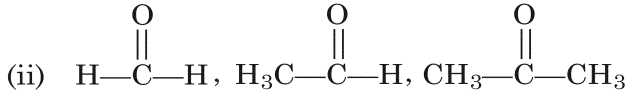
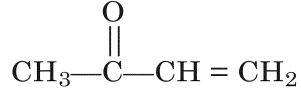
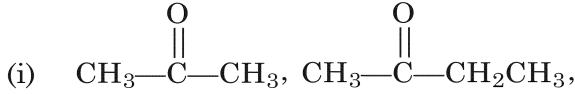
(ख) जल के अणु के लिए तनन और बंकन विधाओं को परिकलित कीजिए और आरेखित कीजिए। 3

(ग) दृढ़ घूर्णक और आवर्ती दोलक के समान व्यवहार कर रहे CO के कम्पन-घूर्णन स्पेक्ट्रम में P और R शाखाओं की उत्पत्ति का वर्णन कीजिए। 4

4. (क) अवरक्त और रमन स्पेक्ट्रमिकी के उपयोग द्वारा आप निम्नलिखित संरचनाओं में किस प्रकार भेद कर सकते हैं ? 2



- (ख) कारण देते हुए दिए गए अणुओं को  $\text{>C=O}$  अवरक्त आवृत्ति के घटते क्रम में व्यवस्थित कीजिए : 4



- (ग)  $\text{H}_2$  अणु के लिए, रमन स्पेक्ट्रम की S-शाखा रेखाओं के बीच दूरी  $243.2 \text{ cm}^{-1}$  है। H-H आबंध लम्बाई परिकलित कीजिए। दिया गया है : H परमाणु का द्रव्यमान =  $1.673 \times 10^{-27} \text{ kg}$ । 4

5. (क) निम्नलिखित पदों की व्याख्या कीजिए : 2
- (i) अववर्णी सृष्टि
- (ii) वर्णातिशायी प्रभाव

- (ख)  $N_2O$  के अवरक्त और रमन स्पेक्ट्रमी आँकड़े नीचे दिए गए हैं। इस जानकारी के आधार पर  $N_2O$  की संरचना निर्धारित कीजिए :

4

$\bar{\nu} / \text{cm}^{-1}$	अवरक्त	रमन
589	प्रबल, PQR बैंड	—
1285	अति प्रबल, PR बैंड	अति प्रबल
2224	अति प्रबल, PR बैंड	प्रबल

- (ग) चतुष्फलकीय ज्यामिति वाले संकुलों में धातु आयन के  $d$ -कक्षकों का क्रिस्टल क्षेत्र विपाटन आरेखित कीजिए और उसकी व्याख्या कीजिए।

4

6. (क) ऐसीटैल्डिहाइड का  $^1\text{H}$ -एन.एम.आर. स्पेक्ट्रम आरेखित कीजिए और उसकी व्याख्या कीजिए।

4

- (ख) एक अयुग्मित इलेक्ट्रॉन वाला एक अकार्बनिक यौगिक 9.5 GHz आवृत्ति पर एक प्रबल ई.एस.आर. रेखा प्रदर्शित करता है। रेखा के लिए  $g$ -मान परिकलित कीजिए।  $B_z = 0.15 \text{ T}$  है।

2

- (ग) उचित चित्र द्वारा बहुपरमाणुक अणुओं के लिए सभी संभव इलेक्ट्रॉनिक संक्रमणों की चर्चा कीजिए। 4
7. (क) उदाहरण सहित मैक्लाफर्टी पुनर्विन्यास की व्याख्या कीजिए। 3
- (ख) 'बैंड पारण चौड़ाई' पद की व्याख्या कीजिए। 2
- (ग)  $C_7H_8O$  अणु सूत्र वाले यौगिक के लिए निम्नलिखित आँकड़े प्राप्त हुए हैं : 5
- अणु भार : 108
- प्रकृति : अम्लीय नहीं
- अवरक्त स्पेक्ट्रम :  $-OH$  समूह की उपस्थिति दर्शाता है।
- पराबैंगनी :  $\lambda_{max}$  : 254 nm और 202 nm पर
- एन.एम.आर. स्पेक्ट्रम ( $\delta$ ,  $CDCl_3$ ) : 3.85 (एकक, 1H), 4.55 (एकक, 2H), 7.25 (एकक, 5H)
- द्रव्यमान स्पेक्ट्रम : ( $m/z$ ) : 108, 107, 79, 77, 51
- यौगिक की संरचना निर्धारित कीजिए।

× × × × ×